

CONHECIMENTOS ESPECÍFICOS

1. “Os discursos emanados do Centro Estudantil Cearense e que tinham como objetivo angariar fundos e subsídios para a construção da Casa do Estudante valiam-se de estratégias para a sua legitimidade, aceitação e validade. A cooperação e o sentido de solidariedade eram, dessa forma, apresentados como essenciais e, buscava-se não criar um clima de animosidade, briga ou hostilidade com os poderes públicos, ao contrário, fazia-se o aproveitamento de certas noções e conceitos presentes nos discursos administrativos para, daí, alicerçar os pedidos.”

VI Simpósio Nacional de História Cultural Escritas da História: Ver – Sentir – Narrar; Universidade Federal do Piauí – UFPI Teresina-PI

Esse fragmento explora o ideal de luta, enfrentado por jovens vindos do interior, pela garantia do direito à moradia estudantil na capital Fortaleza durante o século XX. Diante disso, a qual presidente brasileiro foi proferido o discurso com o pedido de auxílio para a realização do sonho daqueles estudantes?

- A) Washington Luís.
- B) Getúlio Vargas.
- C) Eurico Gaspar Dutra.
- D) Juscelino Kubitscheck.

2. “Tanto nos momentos em que lutava para garantir a aquisição do terreno quanto nos períodos que antecederam à primeira inauguração parcial da Casa do Estudante, o CEC promoveu diversas e diversificadas campanhas, visando angariar fundos para a compra do terreno e para a edificação do prédio.”

VI Simpósio Nacional de História Cultural Escritas da História: Ver – Sentir – Narrar; Universidade Federal do Piauí – UFPI Teresina-PI

Nesse contexto, qual a principal realização dos estudantes para a arrecadação de recursos em maio de 1934?

- A) Festival Terra da Luz.
- B) Venda de cosméticos.
- C) Festa das Flôres.
- D) Manifesto pelo estudo.

3. São inúmeros os estudos sobre a importância dos símbolos na vida e na cultura dos povos. De alguma forma, eles são uma linguagem cifrada das aspirações e dos ideais humanos. Nesse contexto, assinale a alternativa que contém os símbolos da CEC:

- A) Brasão, bandeira e emblema.
- B) Insígnia, hino e sinal.
- C) Bandeira, hino e distintivo.
- D) Distintivo, bandeira e brasão.

4. Sobre os direitos e deveres dos moradores da Casa do Estudante do Ceará, marque V para verdadeiro e F para falso.

() Prestar serviços em prol da manutenção e organização.

() zelar pelo bom nome desta instituição apenas no período probatório e trabalhar por todos os meios idôneos para garantir a manutenção e a prosperidade da mesma.

() Cada Departamento será composto somente por 1 integrante, sendo este escolhido pelo Conselho Diretor.

() Participar, propor, discutir e votar quaisquer medidas que julgue convenientes à CEC, nas Assembleias Gerais.

() não sugerir à direção da CEC, em Assembleia ou por escrito, medidas que julguem úteis à instituição, pois as medidas existentes já são suficientes para organização e garantia do bem-estar dos moradores.

- A) V, F, V, V, F.
- B) V, V, F, F, V.
- C) V, F, F, V, F.
- D) V, V, F, F, V.

5. Conforme o Art. 34º do Estatuto da CEC, o Conselho Diretor é o órgão executivo da administração geral da instituição. Sobre o tempo de duração da gestão dos membros da Diretoria, marque a alternativa correta.

- A) O mandato terá a duração de um (01) ano.
- B) O mandato terá a duração de quatro (04) anos.
- C) O mandato terá a duração de três (03) anos.
- D) O mandato terá a duração de dois (02) anos.

6. De acordo com os seus conhecimentos sobre o estatuto social, marque a alternativa que contém os três poderes diretivos da CEC.
- A) Conselho Diretor, Conselho Fiscal e Conselho Superior.
 - B) Conselho Diretor, Conselho Deliberativo e Comissão de seleção.
 - C) Conselho Diretor, Conselho de Ex-moradores e Conselho Moderador.
 - D) Conselho Diretor, Conselho Deliberativo e Assembleia Geral.
7. A primeira lei municipal que destinava recursos para a Casa do Estudante do Ceará (CEC) foi a Lei n. 4.650/1976, que favorecia a instituição com CR\$ 1,00 (um cruzeiro) por carteira de estudante expedida em Fortaleza. Hoje, é a Lei n. 8.130/1998, que garante 20% do valor de custo das identidades dos estudantes matriculados nos ensinos fundamental e médio de Fortaleza à Casa do Estudante do Ceará (CEC). Esta lei dispõe ainda que a ausência de prestação de contas dos valores recebidos poderá ensejar a suspensão do repasse dessas verbas. Com base no que foi exposto acima e nos seus conhecimentos acerca do Estatuto da CEC, especialmente no que diz respeito à competência para prestar contas, marque a alternativa verdadeira.
- A) Compete ao presidente do Conselho Superior apresentar em Assembleia Geral, com o primeiro secretário do Conselho Deliberativo, balancetes trimestrais do movimento financeiro e, no final da gestão, o balanço geral.
 - B) Compete a todos os membros do Conselho Diretor apresentar em Assembleia Geral, balancetes trimestrais do movimento financeiro e, no final da gestão, o balanço geral.
 - C) Compete ao presidente da CEC apresentar, com o primeiro tesoureiro, em Assembleia Geral, balancetes trimestrais do movimento financeiro e, no final da gestão, o balanço geral.
 - D) Compete a todos os membros do Conselho Deliberativo apresentar em Assembleia Geral, balancetes trimestrais do movimento financeiro e, no final da gestão, o balanço geral.
8. Assinale a única alternativa em que contém uma inverdade sobre a ingresso e permanência dos moradores na CEC:
- A) Os moradores poderão permanecer como pré-universitários, no máximo por 04 (quatro) anos na CEC, sendo totalmente vetada a prorrogação deste prazo.
 - B) Permanecerá como morador, estudantes reconhecidamente carentes, que sejam secundaristas, pré-universitários ou universitários.
 - C) Como universitário, o morador somente poderá permanecer pelo período equivalente ao de seu curso, podendo reprovar ou efetuar trancamento de matrícula por no máximo dois semestres, exceto por justa causa comprovada.
 - D) Os estudantes secundaristas que ingressaram na CEC ainda no 1º ano do ensino médio terão um prazo de 05 (cinco) anos para concluí-lo, caso contrário, serão desligados automaticamente do quadro de moradores.
9. O Estatuto da Casa do Estudante do Ceará dispõe de direitos e deveres aos associados, assim como também trata sobre regras e ritos impostos aos órgãos que dirigem a CEC. A partir dos seus conhecimentos a respeito do Estatuto, seria correto afirmar sobre o consumo de bebidas alcoólicas na CEC:
- A) Qualquer morador da CEC poderá fazer uso de bebida alcoólica na CEC, desde que não use drogas ilícitas, e desde que haja o pleno consentimento dos membros do Conselho Deliberativo e diretor.
 - B) O uso de bebidas alcoólicas nas dependências da Casa somente é permitido nas festas tradicionais da CEC, como aniversário e festa junina;
 - C) Em que pese o uso de substâncias entorpecentes consideradas ilícitas pela legislação brasileira ser proibido nas dependências da CEC, o consumo de bebidas alcoólicas e de cigarros não sofrem nenhuma restrição. Por outro lado, são passíveis de punição aqueles que, sob o efeito de álcool, provoquem dano à CEC ou aos seus moradores.
 - D) Compete ao Conselho Diretor juntamente ao Conselho Deliberativo, proibir o uso de bebidas alcoólicas e de substâncias que provoquem dependência física ou química na CEC;

10. A Casa do Estudante, que funcionou primeira e provisoriamente na esquina das ruas Senador Pompeu e São Paulo, no centro de Fortaleza, estava destinada a servir como morada, ponto de abrigo e referência aos estudantes vindos do interior do Estado ou àqueles mais desprovidos de posses e em situação financeira precária. A Casa serviria, então, como possibilidade de economia (visto que cobrava taxas mais módicas que as praticadas pelos hotéis mais “populares”) e de união e entrelaçamento com outros estudantes. A economia, porém tem um preço que, no caso, estaria relacionado às dificuldades e aos esforços feitos no sentido de garantir a manutenção da Casa. (texto adaptado retirado de “IDEIAS E IDEAIS DE JUVENTUDE EM FORTALEZA NOS IDOS DE 1930 E 1940”

À respeito do texto e com base no estatuto social da CEC, é correto afirmar que hoje a CEC é:

- A) uma instituição privada que cobra mensalmente uma quantia de cada associado para garantir a sua manutenção;
- B) uma instituição pública que não cobra nenhuma taxa dos seus associados;
- C) uma pessoa jurídica de direito privado, sem fins lucrativos e reconhecida de utilidade pública, que demanda esforços dos associados para a sua manutenção;
- D) uma entidade privada, em que todos os moradores são donos e que, portanto, não possuem obrigações estatutárias para com a instituição.

CIÊNCIAS HUMANAS E SUAS TECNOLOGIAS

11. “Eu, Dom João, pela graça de Deus, faço saber a V. Mercê que me aprouve banir para essa cidade vários ciganos — homens, mulheres e crianças — devido ao seu escandaloso procedimento neste reino. Tiveram ordem de seguir em diversos navios destinados a esse porto, e, tendo eu proibido, por lei recente, o uso da sua língua habitual, ordeno a V. Mercê que cumpra essa lei sob ameaça de penalidades, não permitindo que ensinem dita língua a seus filhos, de maneira que daqui por diante o seu uso desapareça.”

TEIXEIRA, R. C. História dos ciganos no Brasil Recdo Núciso ce Estudos Ciganos. 2008

A ordem emanada da Coroa portuguesa para sua colônia americana, em 1718, apresentava um tratamento da identidade cultural pautado em

- A) Converter grupos infiéis à religião oficial.
 - B) Suprimir formas divergentes de interação social.
 - C) Evitar envolvimento estrangeiro na economia local.
 - D) Reprimir indivíduos engajados em revoltas nativistas.
12. "Nossas instituições vacilam, o cidadão vive receoso, assustado; o governo consome o tempo em vãs recomendações... O vulcão da anarquia ameaça devorar o Império: apliquei a tempo o remédio." Padre Antonio Feijó, em 1836.
- A) Revogação da Constituição de 1824, que fornecia os instrumentos adequados à manutenção da ordem.
 - B) Intervenção armada brasileira na Argentina, que causou grandes distúrbios nas fronteiras.
 - C) Disputa pelo poder entre São Paulo, centro econômico importante, e Rio de Janeiro, sede do governo.
 - D) Eclosão de rebeliões regionais, entre elas, a Cabanagem, no Pará e a Farroupilha, no sul do país.

13. A partir de 1938, o Governo Vargas empreendeu a chamada “Marcha para Oeste”. Leia atentamente o que se diz acerca dos objetivos e desdobramentos dessa “Marcha”.

- I. O objetivo inicial era incorporar as regiões que formam os estados de Mato Grosso, Mato Grosso e Goiás à malha econômica do País.
- II. A “Marcha” tinha o objetivo de incentivar a migração interna criando estradas e apoiando o desenvolvimento industrial.
- III. Essa marcha gerou conflitos de terras e confrontos entre migrantes e comunidades indígenas, resultando em muitas mortes.
- IV. A partir desses conflitos surgiu a proposta de criação de reservas fechadas para as comunidades indígenas, isolando-as em seu próprio território.

É correto o que se afirma em

- A) I e II apenas.
- B) I, III e IV apenas.
- C) II, III e IV apenas.
- D) I, II, III e IV.

14. Julgue o excerto abaixo.

Figueiredo assumiu a presidência em um momento político de extrema ebulição: a economia brasileira ia de mal a pior, afetada, sobretudo, pela segunda crise do petróleo que assolou o mundo em 1979; a inflação batia recordes, chegando a faixa de 110% ao ano; os operários do ABC paulista realizavam uma grande greve e tornavam-se o centro de referência para os movimentos de oposição à Ditadura Militar. Ademais, beneficiados pela lei de anistia, vários líderes e militantes de oposição voltaram do exílio.

- A) O excerto está parcialmente correto, pois, durante todo o regime militar, a inflação se manteve controlada.
- B) O excerto está parcialmente correto, uma vez que foi somente no governo Costa e Silva que opositores ao regime voltaram do exílio.
- C) O excerto está completamente correto.
- D) O excerto está parcialmente correto, uma vez que a greve dos operários do ABC se deu no governo Castelo Branco.

15. As duas guerras mundiais cortaram boa parte dos vínculos econômicos entre os países. Depois de 1945, a economia capitalista recuperou, pouco a pouco, seu alcance mundial, num processo conduzido, principalmente, pelas empresas multinacionais. A partir do final da década de 1980, o cenário econômico mundial passou por profundas transformações. Dentre elas, a ascensão ao poder, nos dois países mais importantes do mundo capitalista, do presidente norte-americano Ronald Reagan e da primeira-ministra britânica Margaret Thatcher. Suas ações políticas atacaram os direitos trabalhistas e os benefícios sociais, em prejuízo da maioria da população. O objetivo era aumentar a parcela da riqueza nacional em mãos dos capitalistas. A desigualdade social se acentuou. As empresas estatais foram quase todas privatizadas e o controle do Estado sobre as companhias particulares foi reduzido ao mínimo.

Outra mudança importante neste período foi o fim do comunismo soviético, numa sequência de eventos que têm como marco a queda do Muro de Berlim, em 1989. A Guerra Fria terminou, com a vitória indiscutível do capitalismo.

(Igor Fuser, Geopolítica: o mundo em conflito, 2006. Adaptado.)

O texto enfatiza a ascensão ao poder de líderes políticos partidários

- A) Do socialismo.
- B) Do neoliberalismo.
- C) Do fascismo.
- D) Da social-democracia.

16. Observe a imagem:



No Hemisfério Sul, a sequência latitudinal dos desertos representada na imagem sofre uma interrupção no Brasil devido à seguinte razão:

- A) Existência de superfícies de intensa refletividade.
- B) Preponderância de altas pressões atmosféricas
- C) Influência de umidade das áreas florestais
- D) O Predomínio de correntes marinhas frias.

17. “A industrialização de uma sociedade (...) sempre produz alterações profundas no espaço geográfico, tornando-o mais urbanizado e integrado, além de aprofundar a divisão do trabalho entre o campo e a cidade. A industrialização do Brasil – isto é, a mudança de uma sociedade rural e agrária para uma urbana e industrial – começou no final do século XIX, tendo se intensificado a partir dos anos 1930”.

(VESENTINI, J. W. Geografia: o mundo em transição. São Paulo: Editora Ática, 2012 . p.553)

Sobre a industrialização do Brasil, podemos afirmar que

- A) foi um processo tardio, ou seja, realizado centenas de anos após o desenvolvimento dos países onde ocorreu a I Revolução Industrial.
 - B) houve uma passagem gradativa do artesanato para a manufatura até a mecanização da produção.
 - C) é considerada, atualmente, homogênea e atinge todo o território nacional.
 - D) foi responsável pela concentração de investimentos, transformando-se no principal setor gerador de empregos atualmente.
18. Uma onda de protestos que ocorreu em 2020, fez a hashtag #BlackLivesMatter (Vidas Negras Importam, em tradução livre) ganhar manifestações nas ruas e nas redes sociais. Famosos e anônimos usaram o termo, no online e no offline, como forma de apoio ao movimento antirracista e para cobrar das autoridades que resguardem vidas negras. O caso, que motivou essa onda de protestos contra o racismo nos Estados Unidos, aconteceu no dia 25 de maio de 2020.

Assinale a alternativa que aponta o caso que desencadeou essa onda de protestos:

- A) A morte de George Floyd asfixiado por um policial nos Estados Unidos.
- B) A morte de George Floyd, morto com um tiro na cabeça mesmo sem reagir ao ser confrontado por policiais nos EUA.
- C) A morte do jovem negro Trayvon Martin, que foi morto com um único tiro no peito, enquanto voltava para casa depois de ter comprado doces.
- D) A morte de Jeremy Floyd, morto após ser asfixiado por um policial nos EUA.

19. Um grupo de apoiadores do presidente dos Estados Unidos, Donald Trump, invadiu em 6 de janeiro de 2021, o Capitólio, sede do Congresso americano em Washington, com a intenção de bloquear a sessão de confirmação da vitória do democrata Joe Biden. De acordo com esse assunto e com notícias veiculadas na mídia nos dias 6 e 7 de janeiro de 2021 , classifique os itens abaixo como Verdadeiros (V) ou Falsos (F):

- () Quatro pessoas morreram durante a invasão à sede do Congresso americano em 06/01, durante o processo de certificação da vitória do presidente eleito Joe Biden, segundo a polícia de Washington.
- () Momentos antes da invasão ao Congresso, Trump disse que marcharia junto com os apoiadores ao Congresso. "Eu estarei com vocês. Vamos andar até o Capitólio e felicitar nossos bravos senadores e congressistas", disse no discurso em que rejeitou, mais uma vez, reconhecer o resultado da eleição. Ele, porém, não foi visto na marcha.
- () Houve vandalismo, uma porta de vidro foi quebrada e gás lacrimogêneo foi disparado pela polícia do Capitólio; guardas foram feridos.
- () Biden venceu Trump no Colégio Eleitoral por 256 votos contra 232, porém Trump tem se recusado a reconhecer a derrota para Biden e afirma que houve "fraudes massivas" na eleição, apesar de não haver nenhuma prova ou evidência de que isso tenha ocorrido.

Assinale a alternativa com a sequência CORRETA:

- A) V, V, V, V.
- B) V, V, V, F.
- C) V, V, F, F.
- D) F, V, V, F.

20. O conflito armado entre Rússia e Ucrânia que acontece no leste europeu, gera apreensão no resto do mundo, pois teme-se a expansão dos ataques, gerando a terceira guerra mundial.

Segundo já declararam governantes, como o dos Estados Unidos, qual das alternativas abaixo cita uma ação que poderia acarretar o envolvimento de outras nações na guerra que até agora se concentra entre os dois países?

- A) A suspensão do fornecimento de gás natural da Rússia para o restante da Europa.
- B) O impedimento da exportação dos grãos ucranianos, que sustentam o restante do mundo.
- C) A elevação do índice de mortalidade na Ucrânia para mais de 50%, por causa da guerra.
- D) O ataque a algum país que pertença à Organização do Tratado do Atlântico Norte - OTAN.

LINGUAGENS, CÓDIGOS E SUAS TECNOLOGIAS

Leia o soneto abaixo e responda o que se pede.

Soneto de Fidelidade

De tudo, ao meu amor serei atento
Antes, e com tal zelo, e sempre, e tanto
Que mesmo em face do maior encanto
Dele se encante mais meu pensamento.

Quero vivê-lo em cada vão momento
E em louvor hei de espalhar meu canto
E rir meu riso e derramar meu pranto
Ao seu pesar ou seu contentamento.

E assim, quando mais tarde me procure
Quem sabe a morte, angústia de quem vive
Quem sabe a solidão, fim de quem ama.

Eu possa me dizer do amor [que tive]

Que seja imortal, posto que é chama

Mas que seja infinito enquanto dure.

Vinicius de Moraes

- 21. O poema Soneto de Fidelidade, de Vinicius de Moraes, aborda os sentimentos de
 - A) amor e traição em um relacionamento.
 - B) amor e fidelidade em um relacionamento.
 - C) amor e inveja em um relacionamento.
 - D) amor e felicidade em um relacionamento.
- 22. Nos dois primeiros quartetos do soneto de Vinicius de Moraes, delinea-se a ideia de que o poeta
 - A) não acredita no amor como entrega total entre duas pessoas.
 - B) acredita que, mesmo amando muito uma pessoa, é possível apaixonar-se por outra e trocar de amor.
 - C) entende que somente a morte é capaz de findar com o amor de duas pessoas.
 - D) concebe o amor como um sentimento intenso a ser compartilhado, tanto na alegria quanto na tristeza.
- 23. No poema, há uma metáfora que define que o amor não dura para sempre. Podemos percebê-la em qual dos versos abaixo?
 - A) “Quem sabe a morte, angústia de quem vive”.
 - B) “Quem sabe a solidão, fim de quem ama”.
 - C) “Que seja imortal, posto que é chama”.
 - D) “Quero vivê-lo em cada vão momento”.

24. "Quero vivê-lo em cada vão momento
E em louvor hei de espalhar meu canto
E rir meu riso e derramar meu pranto
Ao seu pesar ou seu contentamento"

Nesta passagem, verifica-se a antítese, na indicação de sentimentos opostos, que são

- A) Vivê-lo e momento.
B) Ri e derramar.
C) Louvor e canto.
D) Riso e pranto.
25. Marque a alternativa correta em relação à classificação das palavras sublinhadas, na ordem em que aparecem na frase:

Que mesmo em face do maior encanto
Dele se encante mais meu pensamento.

- A) Substantivo, verbo e pronome.
B) Verbo, adjetivo e pronome.
C) Substantivo, adjetivo e verbo.
D) Pronome, verbo e substantivo.

Leia o poema e responda as questões.

Canção do exílio

Minha terra tem palmeiras,
Onde canta o Sabiá;
As aves, que aqui gorjeiam,
Não gorjeiam como lá.

Nosso céu tem mais estrelas,
Nossas várzeas têm mais flores,
Nossos bosques têm mais vida,
Nossa vida mais amores.

Em cismar, sozinho, à noite,
Mais prazer eu encontro lá;
Minha terra tem palmeiras,
Onde canta o Sabiá.

Minha terra tem primores,
Que tais não encontro eu cá;
Em cismar –sozinho, à noite–
Mais prazer eu encontro lá;
Minha terra tem palmeiras,
Onde canta o Sabiá.

Não permita Deus que eu morra,
Sem que eu volte para lá;
Sem que disfrute os primores
Que não encontro por cá;
Sem qu'inda aviste as palmeiras,
Onde canta o Sabiá.

De Primeiros cantos (1847)

Gonçalves Dias

26. Releia:

Não permita Deus que eu morra,
Sem que eu volte para lá;
Sem que disfrute os primores
Que não encontro por cá;
Sem qu'inda aviste as palmeiras,
Onde canta o Sabiá.

Nesta estrofe, há uma predominância do modo verbal

- A) No indicativo.
B) No imperativo.
C) No subjuntivo.
D) No infinitivo.

27. “Minha terra tem palmeiras,
Onde canta o Sabiá;
As aves, que aqui gorjeiam,
Não **gorjeiam** como lá”

A palavra em negrito tem o mesmo significado de

- A) Gritam.
B) Brincam.
C) Gracejos.
D) Cantam.
28. No verso "Sem que **disfrute os primores**" a expressão em negrito quer dizer
- A) Aproveitar os amores.
B) Aproveitar os sabores.
C) Aproveitar as mudanças.
D) Aproveitar as coisas boas.
29. **Veja as três frases e responda.**
- Machucou-se todo naquele jogo de futebol.
A moça declama o poema canção do exílio.
O pombo da canção do exílio foi declamado pela moça.
As três frases estão respectivamente nas vozes verbais
- A) Passiva, reflexiva e ativa.
B) Reflexiva, ativa e passiva.
C) Ativa, passiva e reflexiva.
D) Passiva, ativa e reflexiva.
30. O eu lírico no poema Canção do exílio transmite sentimento de
- A) Alegria.
B) Segurança.
C) Saudades.
D) Paixão.

MATEMÁTICA E SUAS TECNOLOGIAS

31. Observe a expressão no quadro abaixo.

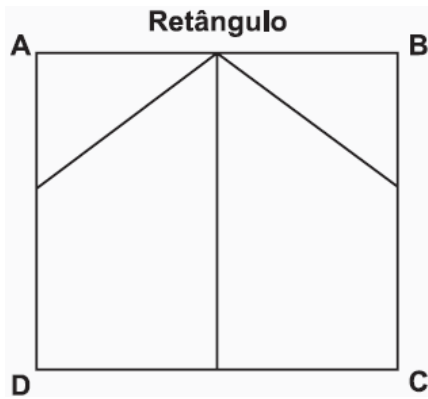
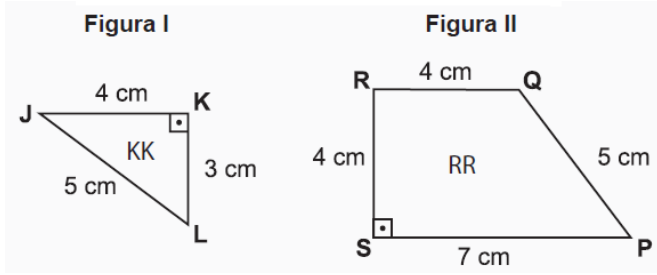
$$(-1)^2 - (-5)^2 + 2^2 - (-2)^3$$

Qual é o resultado dessa expressão?

- A) - 12
B) + 20
C) + 16
D) - 30
32. Uma toalha de mesa retangular, com 20 cm de largura e 56 cm de comprimento, foi contornada com bordado inglês.
- Em quantos centímetros dessa toalha, no mínimo, foi feito esse tipo de bordado?
- A) 76
B) 80
C) 152
D) 224

RASCUNHO PARA CÁLCULO

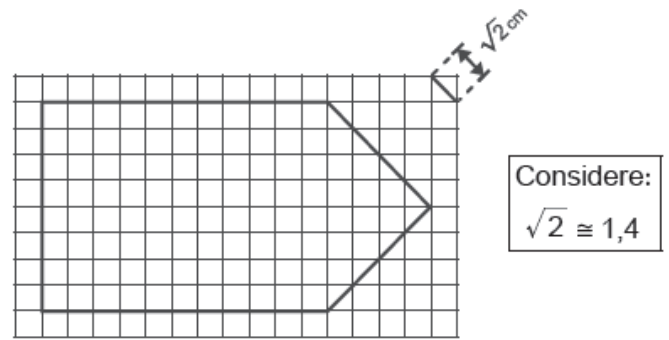
33. Marcos usou dois triângulos e dois trapézios idênticos aos das figuras I e II para construir o retângulo ABCD, conforme o desenho abaixo.



Qual é a medida do perímetro do retângulo ABCD construído por Marcos?

- A) 30 cm
- B) 32 cm
- C) 44 cm
- D) 47 cm

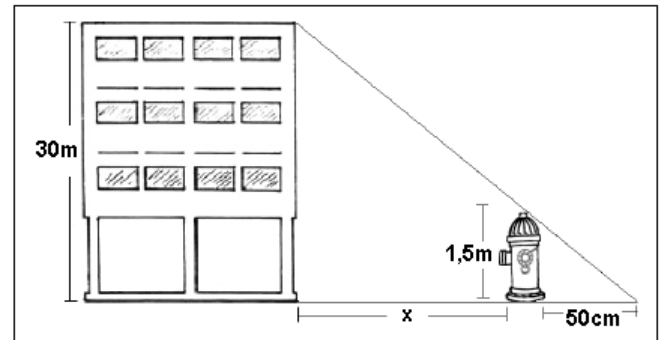
34. Observe o desenho na malha quadriculada abaixo. Cada quadradinho dessa malha corresponde a 1 cm de lado.



Qual é a medida aproximada do perímetro desse desenho?

- A) 30,0 cm
- B) 38,0 cm
- C) 41,2 cm
- D) 46,5 cm

35. Pela figura abaixo, é possível perceber que as alturas do edifício e do hidrante são, respectivamente, de 30 metros e 1,5 metro. Se a sombra do hidrante mede 50 centímetros, quanto mede a distância do prédio ao hidrante em metros?



- A) 7,0
- B) 8,5
- C) 9,0
- D) 9,5

36. O custo de uma produção, em milhares de reais, de x máquinas iguais é dado pela expressão $C(x) = x^2 - x + 10$. Se o custo foi de 52 mil reais, então, o número de máquinas utilizadas na produção foi;

- A) 6.
- B) 7.
- C) 8.
- D) 9.

37. Uma loja de calçados lançou um novo modelo e estimou que a quantidade desses pares de sapatos vendidos nas duas primeiras semanas seria igual. No entanto, as vendas superaram as expectativas de forma que, na primeira semana, foram vendidos o dobro da quantidade de pares estimada e na segunda semana, o quadrado da quantidade prevista inicialmente, totalizando, nessas duas semanas, 24 pares vendidos desse novo modelo de sapato.

Qual foi a quantidade de pares desse novo modelo de sapato que essa loja estimou vender em cada semana?

- A) 4.
- B) 5.
- C) 6.
- D) 8.

38. Após a secagem de um determinado tipo de grão, um produtor verificou que houve uma redução em quilogramas desse grão na razão de 3 para 1. Esse produtor colheu 327 kg desse grão.

Mantendo essa proporção, quantos quilogramas esse produtor terá após essa secagem?

- A) 981 kg
- B) 327 kg
- C) 324 kg
- D) 109 kg

39. Em uma fábrica são produzidas 5 peças a cada 40 segundos. A tabela a seguir mostra a quantidade de peças que são produzidas em termo da quantidade de segundos.

Tempo (segundos)	40	80	120	160	200
Quantidade de peças produzidas	5	10	15	20	25

Depois de 10 minutos a quantidade de peças produzidas é

- A) 75
- B) 85
- C) 65
- D) 95

40. Antônio pretendia vender 500 bombons durante a feira cultural de uma escola. Ele só conseguiu vender 52% desses bombons.

Quantos bombons ele vendeu?

- A) 162
- B) 260
- C) 246
- D) 402

PROPOSTA DE REDAÇÃO

Com base na leitura dos textos motivadores e nos conhecimentos construídos ao longo da sua formação, redija um texto dissertativo – argumentativo sobre o tema **“Os desafios para melhorar a saúde pública no Brasil”**, apresentando proposta de intervenção que respeite os direitos humanos. Selecione, organize e relacione de forma, coesa e coerente, argumentos para a defesa de seu ponto de vista.

TEXTO 1

O movimento sanitarista foi de importância ímpar ao entendimento de saúde pública, do conceito de saúde e também da evolução do direito à saúde no Brasil. A reforma sanitária se refere às ideias de uma série de mudanças e transformações necessárias à saúde. Sua composição era de técnicos da saúde – médicos, enfermeiros, biomédicos... – e intelectuais, partidos políticos, diferentes correntes e tendências e movimentos sociais diversos. Ao fim da década de 1970, o movimento adquiriu certa maturidade em função de uma série de estudos acadêmicos e práticos realizados, principalmente, nas faculdades de Medicina.

Disponível em: <https://guiadoestudante.abril.com.br/blog/atualidades->

TEXTO 2

Das 118 unidades fiscalizadas na Paraíba pelo Conselho Regional de Medicina (CRM) de janeiro a maio de 2019, 63,6% apresentam graves inconformidades com questões relacionadas à saúde. O índice foi divulgado durante uma

coletiva na manhã desta quarta-feira (5), em João Pessoa, por meio de um dossiê da saúde pública paraibana.

Conforme o CRM, os principais problemas encontrados nas unidades de saúde são a falta de médicos, recursos materiais básicos, estrutura inadequada e falta de insumos e medicamentos, comprometendo o exercício da medicina e a segurança dos pacientes.

Disponível em: <https://g1.globo.com/pb/paraiba/noticia/2019/06/05/>

TEXTO 3



RASCUNHO DA REDAÇÃO

1	
2	
3	
4	
5	
6	
7	
8	
9	
10	
11	
12	
13	
14	
15	
16	
17	
18	
19	
20	
21	
22	
23	
24	
25	
26	
27	
28	
29	
30	